

Test z hudební nauky 4. ročník II. pololetí

Jméno a příjmení.....

1. Doplně názvy not v houslovém a basovém klíči.

.....

.....

.....

.....

.....

.....

2. K daným tónům doplně druhý tak, aby byly oba enharmonicky záměnné.

3. Podle předznamenání doplně název stupnice. Ke každé durové stupnici dopiš mollovou se stejným předznamenáním. Nezapomeň: název durové zapisujeme velkými písmeny, mollové malými.

.....dur
.....moll

.....dur
.....moll


.....dur
.....moll

.....dur
.....moll

4. Orchester to je větší počet instrumentalistů. Jednotlivé nástroje v něm tvoří čtyři hlavní nástrojové skupiny (sekce). Zakroužkuj správnou odpověď.


- a) smyčcové, dechové dřevěné, dechové žesťové, bicí.
- b) strunné drnkací, dechové žesťové, dechové dřevěné, bicí.
- c) strunné klávesové, dechové žesťové, dechové dřevěné, bicí.

5. Dopln' tónický kvintakord, sextakord a kvartsextakord v Es dur a c moll. Posuvky zapisujte přímo k notám.




D: T5 D: T6 D: T64 c: T5 c: T6 c: T64

6. Dopln' názvy čistých, velkých a malých intervalů.



.....

7. Dopln' taktové čáry.



8. Hudební skladatel Giuseppe Verdi

Skladatel se narodil:

- a) ve Španělsku
- b) v Portugalsku
- c) v Itálii

Jeho otec byl povoláním

- a) venkovský hokynář, hostinský
- b) policejní úředník
- c) městský lékárník

Proslul především jako skladatel

- a) operní tvorby
- b) symfonických tanců
- c) velkých písňových cyklů

Jedno s nejznámějších děl G. Verdiho

- a) Kouzelná flétna
- b) Rusalka
- c) Nabucco