

Test z hudební nauky 4. ročník I. pololetí

Jméno a příjmení.....


1. Doplně názvy not v houslovém klíči.



2. Doplně názvy not v basovém klíči.




3. Podle předznamenání doplně název stupnice. Ke každé durové stupnici dopiš mollovou se stejným předznamenáním. Nezapomeň: název durové zapisujeme velkými písmeny, mollové malými.




.....dur
.....moll



.....dur
.....moll




.....dur
.....moll



.....dur
.....moll

4. Doplně tónický kvintakord, sextakord a kvartsextakord v D dur. Posuvky zapisujte přímo k notám.

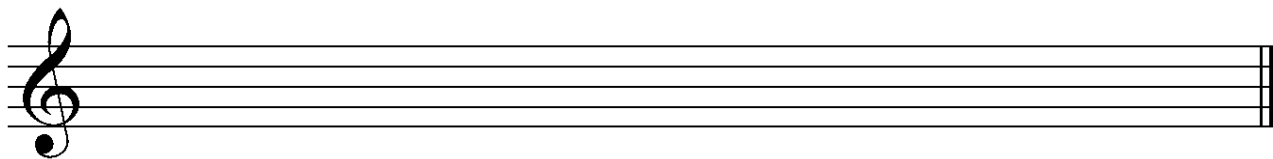


T5

T6

T64

5. Napiš harmonickou stupnici fis moll. Doplně trojzvuk : T5 (tónický kvintakord).



6. Doplně číslem názvy intervalů.



7. Doplně taktové čáry.



8. Hudební skladatel F. Schubert.

Rod F. Schuberta pochází:

- a) z Malé Moravy okres Šumperk
- b) ze Sessa Aurunca v severní Kampánii
- c) z Kremže Dolní Rakousy

Jaké povolání vykonával
tatínek F. Schuberta

- a) mlynář
- b) učitel
- c) architekt

Za svého života F. Schubert složil
velké množství umělých písní

- a) více než 850
- b) více než 600
- c) více než 420

Celosvětově je oblíbená skladba

- a) Ave Lucie
- b) Ave Maria
- c) Ave Theodora