

Test z hudební nauky 3. ročník I. pololetí

Jméno a příjmení.....

1. Dopln názvy not v houslovém klíči.



2. Dopln názvy not v basovém klíči.




3. Dopln název stupnice. Vyber správné pořadí křížku v předznamenání. Nehodící variantu škrtni.

1#



2#




3#




4#



4. Napiš stupnici A dur. Označ půltóny svorkou. Podepiš velkým písmenem hlavní stupně ve stupnici: T (tónika), S (subdominanta), D (dominanta). Dopln trojzvuk: T5 (tónický kvintakord).



5. Pod každou dvojici tónů doplň název intervalů (například: prima, sekunda..atd.).



.....

6. Který nástroj nepatří k žesťovým dechovým (nehodící škrtni):

Trubka Lesní roh Pozoun Anglický roh Tuba Saxofon

7. Doplň taktové čáry.



8. Hudební skladatel A. Vivaldi.

A. Vivaldi se narodil

- a) v Benátkách
- b) v Římě
- c) v Miláně

Během jeho života se mu dostalo přezdívky

- a) římský zázrak
- b) zrzavý kněz
- c) kouzelný houslista

K nejznámějším dílům
A. Vivaldiho patří

- a) Čtvero ročních dob
- b) Malá noční hudba
- c) Stvoření světa

Kolík oper napsal A. Vivaldi

- a) 20
- b) 30
- c) 50