

# Test z hudební nauky 4. ročník I. pololetí

Jméno a příjmení.....

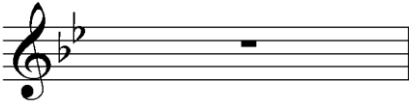
1. Doplň názvy not v houslovém a basovém klíči:

Four musical staves are shown, each with a sequence of four notes. Below each staff is a dashed line for the answer.

- Staff 1: Treble clef, notes C4, D4, E4, F4.
- Staff 2: Treble clef, notes G4, A4, B4, C5.
- Staff 3: Bass clef, notes C3, D3, E3, F3.
- Staff 4: Bass clef, notes G2, F2, E2, D2.

2. Podle předznamenání urči název durové stupnice. Dopiš k dané durové stupnici paralelní mollovou.


1



\_\_\_\_\_

\_\_\_\_\_

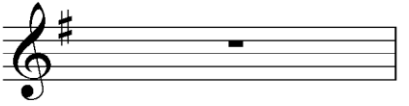
2



\_\_\_\_\_

\_\_\_\_\_


3



\_\_\_\_\_

\_\_\_\_\_


4



\_\_\_\_\_

\_\_\_\_\_


5



\_\_\_\_\_

\_\_\_\_\_


6



\_\_\_\_\_

\_\_\_\_\_



7



\_\_\_\_\_

\_\_\_\_\_

3. Napiš stupnici cis moll harmonickou a melodickou



4. Zakroužkuj noty, které jsou správně:

cisis2    deses2    gisis2    asas2    fisis2    heses1    disis2    aisis2    asas1

5. Doplň tónický kvintakord, sextakord a kvartsextakord D dur, A dur.

D: T5      T6      T64      A: T5      T6      T64

6. Doplň názvy intervalů:

-----

7. Doplň taktové čáry:

8. Vyjmenuj dřevěné dechové nástroje: .....

.....

9. R. Schumann: uveď jeho známá díla