

Test z hudební nauky 3. ročník I. pololetí

Jméno a příjmení.....

1. Doplň názvy not v houslovém a basovém klíči:




A musical staff in treble clef containing eight notes: G4, A4, B4, C5, B4, A4, G4, and F#4. Below the staff are eight dashed lines for labeling.




A musical staff in bass clef containing eight notes: G3, F3, E3, D3, C3, B2, A2, and G2. Below the staff are eight dashed lines for labeling.

2. Zakroužkuj správné pořadí křížků, doplň název stupnice:




Four musical staves in treble clef, each with a different combination of sharps: 1) F#, C#, G#; 2) F#; 3) F#, C#; 4) F#, C#, G#. Below each staff is a dashed line for labeling.



Four musical staves in treble clef, each with a different combination of sharps: 1) F#, C#; 2) F#, C#, G#; 3) F#, C#, G#, D#; 4) F#. Below each staff is a dashed line for labeling.

3. Napiš stupnici E dur. Označ půltóny, hlavní stupně (tóniku, subdominantu, dominantu), doplň kvintakord:



An empty musical staff in treble clef for writing the E major scale and chords.

4. Zakroužkuj správnou odpověď:

C dur	E dur	D dur
D dur	G dur	E dur
E dur	A dur	

5. Pod každou dvojici tónů doplň název intervalů:

6. Vyjmenuj žesťové dechové hudební nástroje.....

.....

7. Doplně taktové čáry:

8. A. Vivaldi: uveď jeho známá díla.....

.....