


Test z hudební nauky 2. ročník II. pololetí

Jméno a příjmení.....

1. Doplň názvy not v houslovém a basovém klíči.



2. Doplň předznamenání v těchto stupnicích.


A dur

Es dur

F dur

E dur

B dur



3. Pod každou dvojici doplň název intervalu (číslem).





Jaká je vzdálenost (doplň název intervalu):

od prvního ke čtvrtému tónu

od prvního ke druhému tónu

od prvního k šestému tónu

4. Doplň druhou (vrchní) notu daného intervalu.



4

6

1

8


3

5

5. Zakroužkuj dvojici tónů, které tvoří interval tercií.



6. Napiš v celých notách stupnici Es dur. Doplň předznamenání, vyznač oba půltóny (svorkou) a doplň akord.



7. Přiřaď jednotlivá tempa do správné skupiny: Adagio, Vivace, Lento, Andante, Grave, Moderato, Presto, Andantino, Allegro.

Pomalá tempa

Střední

Rychlá

.....

.....

.....

8. Vyjmenuj dechové dřevěné nástroje:

.....

Který z nich je dvouplátkový?

.....

9.

Ludwig van Beethoven se narodil roku _____

Beethovenův rodný dům se nachází _____

Jeho tatínek byl _____

Ludwig van Beethoven žil od roku 1792 trvale ve _____

Nebylo mu ani ____ let, když se projevíly první příznaky _____

Kolik symfonií Beethoven zkomponoval? _____

Jak se jmenuje Beethovenova Pátá symfonie? _____

Ve které symfonii zazní Óda na radost _____

Óda na radost v roce 1985 se stala oficiální _____

Zkomponoval opery _____

Doplň si další díla Ludwiga van Beethovena _____